


⑬-1 2年 長方形と正方形

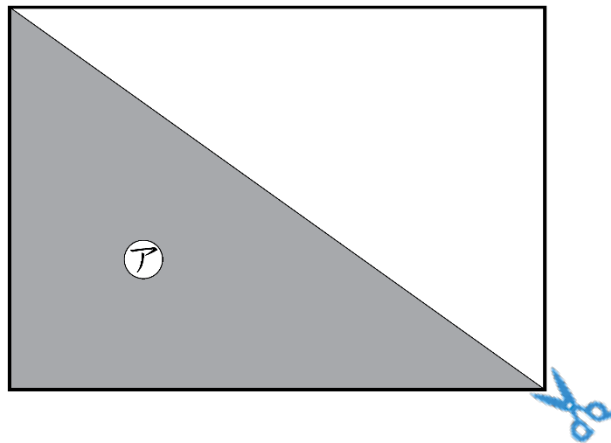
年 組 番

名前

つぎ
次の図のような長方形があります。



この長方形を、下の図のように1本の直線で切ります。



このときにできる①の部分の図形の名前を、下の1から5までの中から1つ選んで、その番号を書きましょう。

- 1 正方形
- 2 四角形
- 3 長方形
- 4 直角三角形




⑬-1 2年 長方形と正方形

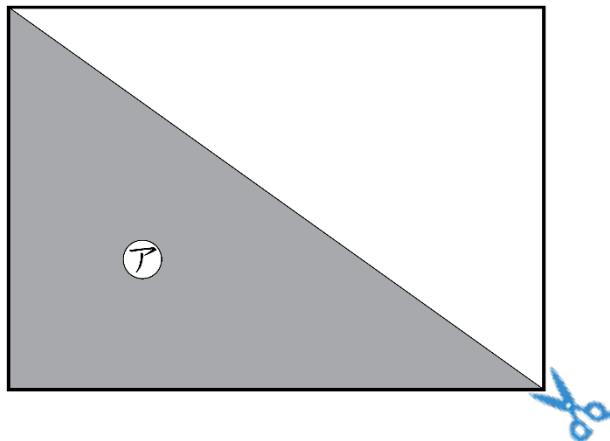
年 組 番

名前

つぎ
次の図のような長方形があります。



この長方形を、下の図のように | 本の直線で切ります。



このときにできる (ア) の部分の図形の名前を、下の **1** から **5** までの中から一つ選んで、その番号を書きましょう。

- 1 正方形
- 2 四角形
- 3 長方形
- 4 直角三角形

